



DALLA SIGNORA ELVIRA

La signora Elvira Tacchetti è la proprietaria del negozio "Scarpe-scarpine-scarpette". Al magazzino ha acquistato una partita di 30 paia di scarpe uguali a € 45 il paio. Quando le ha messe in vendita ha applicato un rincaro del 40% per il suo guadagno e le spese di gestione. Quelle scarpe erano così belle che subito, il primo giorno, ne ha vendute la metà. Quanto ha incassato?





Risolvi il problema nel **primo** modo:

- Trova quanto costa in vetrina un paio di scarpe.
- Trova quante sono le paia di scarpe vendute.
- Trova quanto incassa la signora Elvira.





Quale dei tre modi ti è sembrato più semplice? Colora la casella e spiegane il perché.



.....

.....

.....

.....

.....

.....

.....

.....

.....