

## LE VIOLETTE.

LAURA HA COLTO 7 VIOLETTE, CARLA NE HA COLTE 8 E  
FRANCESCA 4.



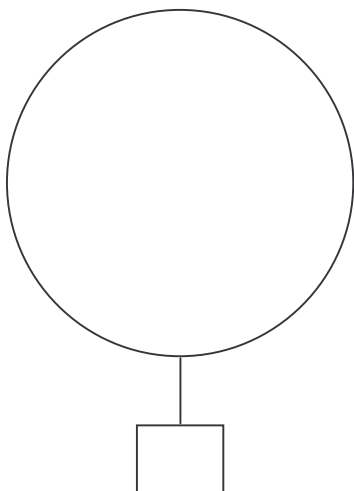
SCEGLI LA DOMANDA ADATTA.

- QUANTE MARGHERITE HANNO RACCOLTE LE BAMBINE?
- QUANTE VIOLETTE HANNO COLTO IN TUTTO LE BAMBINE?
- QUANTE VIOLETTE HANNO BUTTATO VIA LE BAMBINE?

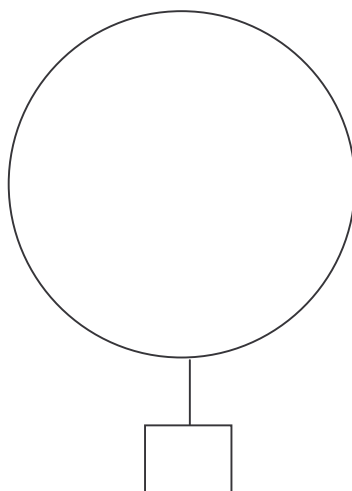


DISEGNA LE VIOLETTE DI LAURA, DI CARLA E DI  
FRANCESCA E SCRIVI IL NUMERO NEI CARTELLINI.

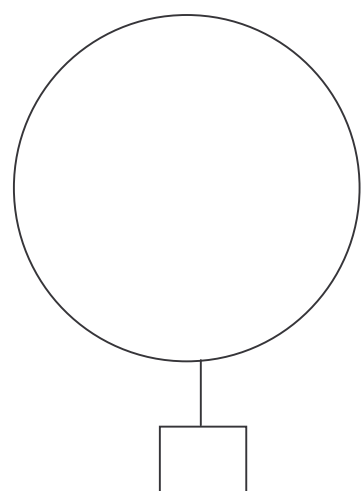
LAURA



FRANCESCA



CARLA





QUAL È L'OPERAZIONE GIUSTA PER RISOLVERE IL PROBLEMA?

$7 + 8 + 4 = \dots\dots\dots$

$7 + 8 - 4 = \dots\dots\dots$



ADESSO CHE L'HAI TROVATA, ESEGUI IL CALCOLO E SCRIVI SOTTO LA RISPOSTA.

RISPOSTA:

.....

.....



CONTROLLA SE I TUOI COMPAGNI HANNO LAVORATO COME TE. AVEVI INDOVINATO?



SÌ



NO