



LE FRITTELLE.

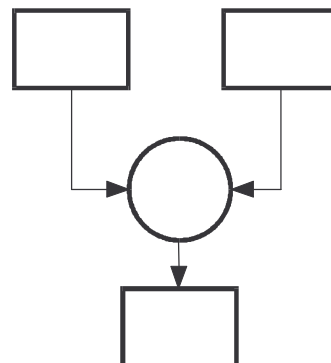
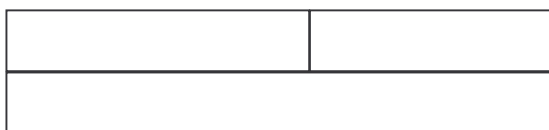
LA MAMMA DI LUCIA HA PREPARATO LE FRITTELLE.
LE DISPONE IN DUE PIATTI.
NEL PRIMO METTE 5 FRITTELLE E NEL SECONDO 4.
QUANTE FRITTELLE HA PREPARATO IN TUTTO LA MAMMA DI LUCIA?



DISEGNA LE FRITTELLE NEI DUE PIATTI:



COLORA I REGOLI IN MODO ESATTO E COMPLETA IL DIAGRAMMA:

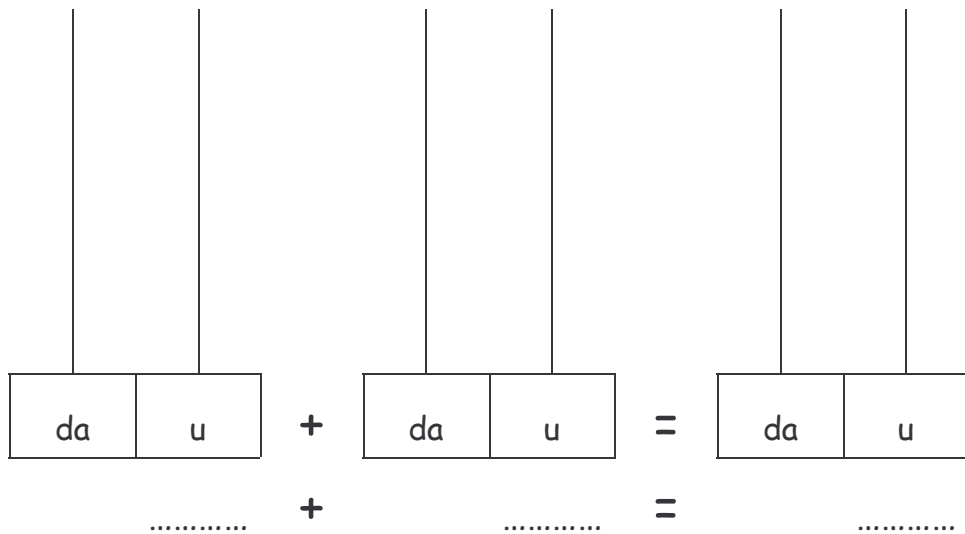




RISOLVI IL PROBLEMA CON LA LINEA DEI NUMERI:



RISOLVI IL PROBLEMA UTILIZZANDO L'ABACO:



COME TI È SEMBRATO QUESTO PROBLEMA?



- È STATO SEMPLICE.
- HO AVUTO UN PO' DI DIFFICOLTÀ.
- HO DOVUTO PENSARCI MOLTO.