

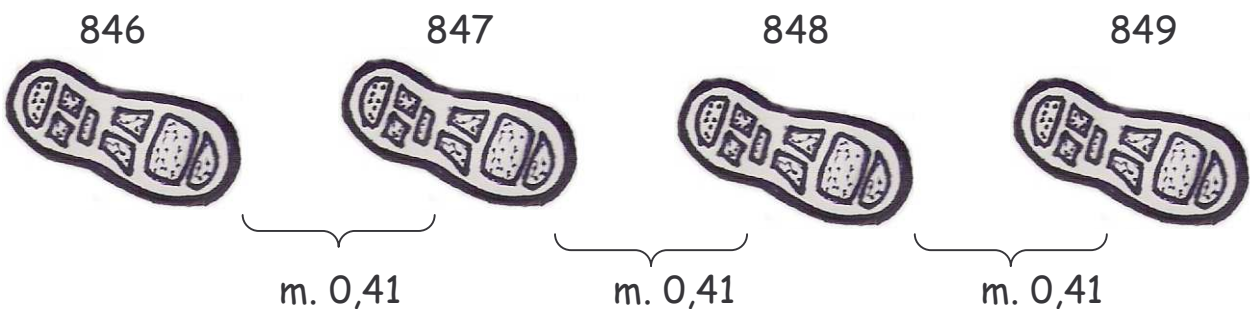
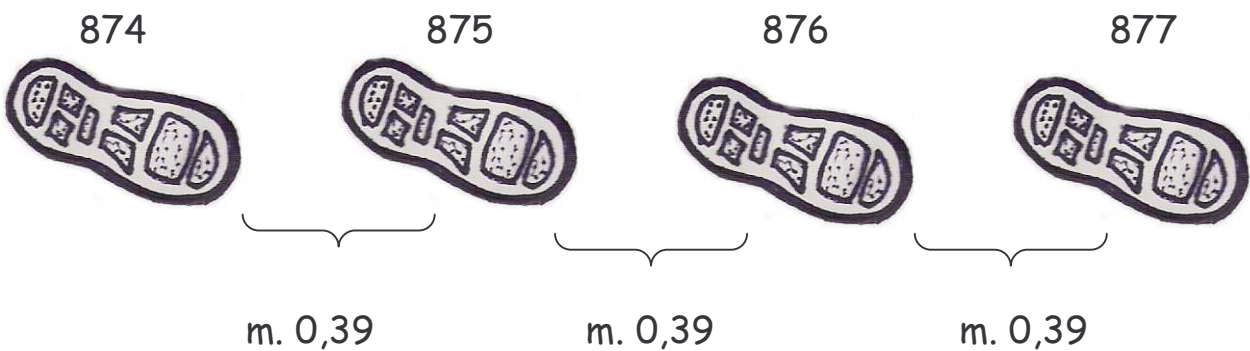
## DA CASA A SCUOLA

Simone stamattina ha misurato in passi la distanza da casa a scuola: sono 87,7. ha poi misurato il suo passo: 0,39 metri.  
Anche il suo amico Marco ha fatto la stessa cosa: ha contato 849 passi da 0,41 metri ciascuno.  
Chi dei due amici abita più vicino alla scuola? Di quanto?



Quale dei seguenti disegni ti aiuta a risolvere il problema?  
Indicalo con una crocetta.

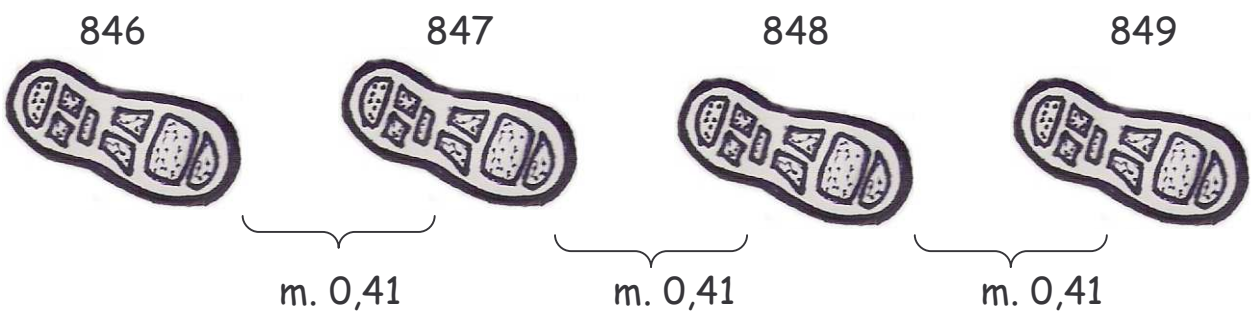
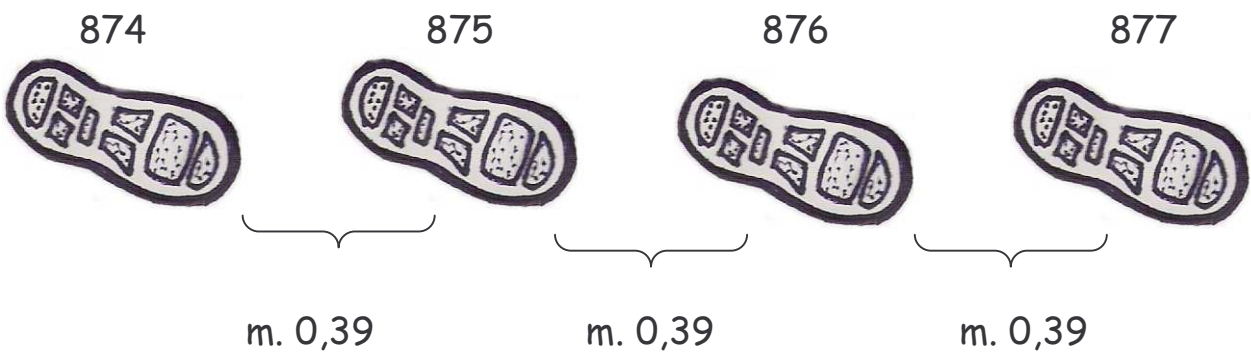
Percorso dalla scuola al campetto di calcio



□ I due bambini vanno a scuola insieme



□ Percorso da casa a scuola





Metti in ordine la sequenza per risolvere esattamente il problema.

- Trovo quanti metri percorre Marco.
- Trovo la differenza.
- Trovo quanti metri percorre Simone.



Risolvi il problema con le operazioni.




Come ti è sembrato risolvere questo problema?

- È stato facile.
- È stato abbastanza difficile.
- È stato difficile.