

PRIMA UNITÀ DI ESERCITAZIONE.



Scrivi il numero in lettere:

0,6 = zero unità e sei decimi

2,4 =

0,7 =

3,9 =

0,1 =

1,9 =

0,9 =

2,2 =

1,7

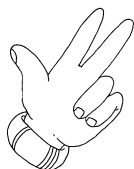
3,7



Ordina i seguenti numeri in ordine crescente:

4,8 3,4 5,5 7,2 9,1 2,7 5,3 1,6

--	--	--	--	--	--	--	--




Ordina i seguenti numeri in ordine decrescente:

6,2 7,4 4,6 5,3 9,7 8,2 7,5 6,6

--	--	--	--	--	--	--	--




Colora la frazione decimale indicata e scrivi il numero decimale corrispondente:




$$\frac{2}{10}$$

.....




$$\frac{7}{10}$$

.....




$$\frac{5}{10}$$

.....




$$\frac{1}{10}$$

.....



$$\frac{4}{10}$$

.....



$$\frac{8}{10}$$

.....



Come ti è sembrato risolvere questi esercizi?

- È stato facile.
- È stato abbastanza difficile.
- È stato difficile.

