

GIOCHI DI PLESSO.

NELLA GIORNATA SPORTIVA ORGANIZZATA DALLA SCUOLA SI SONO SCONTRATE A PALLAVOLO DUE SQUADRE: LE **TIGRI** ED I **LEONI**. HANNO REALIZZATO I SEGUENTI PUNTEGGI:

TIGRI: 8 PUNTI;

LEONI: 9 PUNTI.



IN OGNI RIGA COLORA, UNA DI SEGUITO ALL'ALTRA, TANTE CASELLE QUANTI SONO I PUNTI DI CIASCUNA SQUADRA.

TIGRI

| | | | | | | | | |
|--|--|--|--|--|--|--|--|--|
| | | | | | | | | |
|--|--|--|--|--|--|--|--|--|

LEONI

| | | | | | | | | |
|--|--|--|--|--|--|--|--|--|
| | | | | | | | | |
|--|--|--|--|--|--|--|--|--|

QUALE SQUADRA HA VINTO?

.....

QUANTI PUNTI IN MENO HA REALIZZATO LA SQUADRA CHE HA PERSO RISPETTO A QUELLA VINCENTE?

| |
|--|
| |
|--|



ORA SCRIVI L'OPERAZIONE CHE RISOLVE IL PROBLEMA:

A large rectangular box with a dotted border, intended for writing the solution to a problem.



PENSI DI AVER SVOLTO BENE IL COMPITO?
SEGNA CON UNA CROCETTA LA RISPOSTA.




SI



NO

BAMBINI GIOCHERELLONI.



CI SONO 9 BAMBINI, MA SOLO 6 HANNO I PATTINI.
QUANTI BAMBINI NON HANNO I PATTINI?



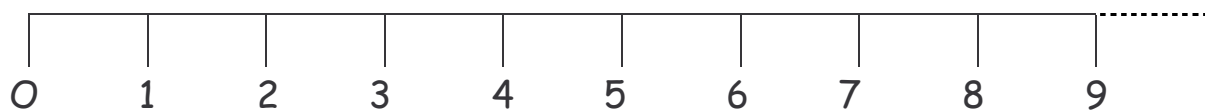
RISOLVI IL PROBLEMA:

CON GLI INSIEMI

CON I REGOLI



SULLA LINEA DEI NUMERI



CON I NUMERI

.....



HO LAVORATO:


- CON QUALCHE INCERTEZZA.
- ABBASTANZA BENE.
- MOLTO BENE.

LE MACCHININE DI MARCO.

MARCO HA 8 MACCHININE: 5 SONO ROSSE E LE ALTRE BLU.
QUANTE MACCHINE SONO BLU?



COLORA IL DISEGNO COME TI SUGGERISCE IL TESTO.



OPERAZIONE:

.....


RISPOSTA:

LE MACCHININE BLU SONO



ORA OSSERVA IL DISEGNO E RISOLVI IL PROBLEMA:

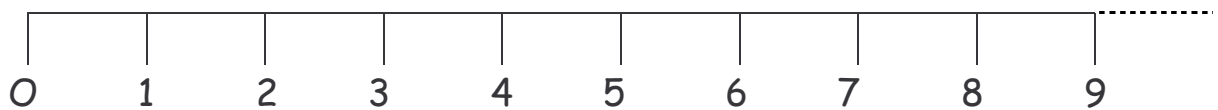
CON GLI INSIEMI



CON I REGOLI



SULLA LINEA DEI NUMERI



CONTROLLA SE I TUOI COMPAGNI HANNO LAVORATO
COME TE.

AVEVI INDOVINATO?



SÌ




NO

BAMBOLINE DI CARTA.



GIADA OSSERVA LA MAMMA MENTRE RITAGLIA
BAMBOLINE DI CARTA.



✦ QUANTE SONO LE BAMBOLINE CON LA GONNA?

✦ QUANTE SONO LE BAMBOLINE CON I PANTALONI?

✦ SONO DI PIÙ LE BAMBOLINE CON LA GONNA O CON I PANTALONI?

.....

.....


✦ QUANTE DI MENO?



INDICA CON UNA CROCETTA COSA PENSI DEL TUO LAVORO.

- SONO SICURO DI AVER FATTO TUTTO GIUSTO.
- FORSE HO FATTO GIUSTO.
- FORSE HO SBAGLIATO.
- SONO SICURO DI AVER SBAGLIATO.

AL RISTORANTE.



OSSERVA IL DISEGNO E RISPONDI:

✦ QUANTE PERSONE ASPETTANO DI SEDERSI A TAVOLA?

✦ QUANTI POSTI SONO LIBERI?

✦ QUANTE PERSONE DOVRANNO ATTENDERE ANCORA?



COME TI È SEMBRATO QUESTO PROBLEMA?

È STATO SEMPLICE.

HO AVUTO UN PO' DI DIFFICOLTÀ.

HO DOVUTO PENSARCI MOLTO.

IL CONIGLIETTO TIPPETE.

IL CONIGLIETTO TIPPETE FA 9 PASSI, MA SI ACCORGE DI AVER PERSO IL SUO FAZZOLETTO. TORNA ALLORA INDIETRO DI 4 PASSI.

SU QUALE NUMERO SI FERMA?



AIUTATI CON LA LINEA DEI NUMERI:



RISOLVI ORA IL PROBLEMA CON:

OPERAZIONE:

.....

RISPOSTA:

IL CONIGLIETTO TIPPETE SI FERMA SUL NUMERO



PENSI DI AVER SVOLTO BENE IL COMPITO?
SEGNA CON UNA CROCETTA LA RISPOSTA.



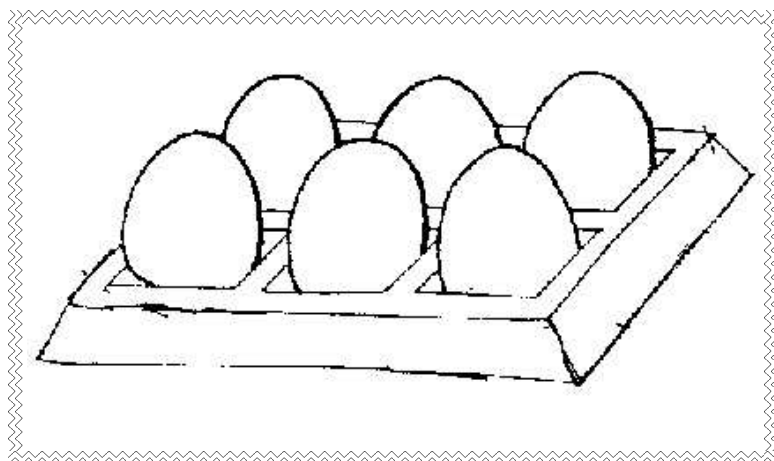
SÌ



NO

IL DOLCE.

LA MAMMA HA COMPRATO 6 UOVA.
NE HA USATO 3 PER FARE UN DOLCE.
QUANTE UOVA SONO RIMASTE ALLA MAMMA?



SEGNA CON UNA X LE UOVA USATE DALLA MAMMA E
POI FAI L'OPERAZIONE:

$$\boxed{\dots\dots} - \boxed{\dots\dots} = \boxed{\dots\dots}$$

RISPOSTA:

ALLA MAMMA SONO RIMASTE UOVA.



PENSI DI AVER SVOLTO BENE IL COMPITO?
SEGNA CON UNA CROCETTA LA RISPOSTA.



SÌ



NON SO



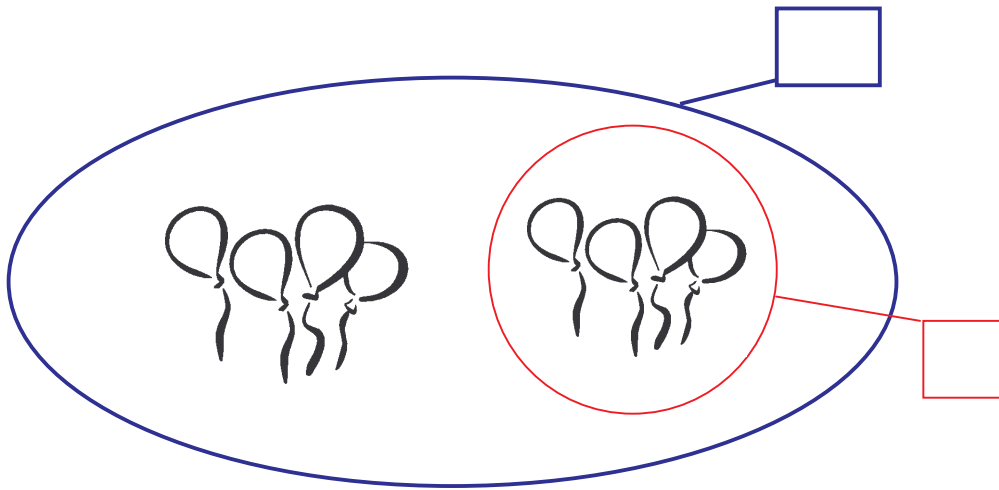
NO

I PALLONCINI.

CI SONO 8 PALLONCINI COLORATI.
IL VENTO NE FA VOLARE VIA 4.
QUANTI PALLONCINI RESTANO?



COMPLETA I CARTELLINI:



OPERAZIONE:

.....

RISPOSTA:
SONO RIMASTI PALLONCINI.



CONTROLLA SE I TUOI COMPAGNI HANNO LAVORATO
COME TE.
AVEVI INDOVINATO?



SÌ

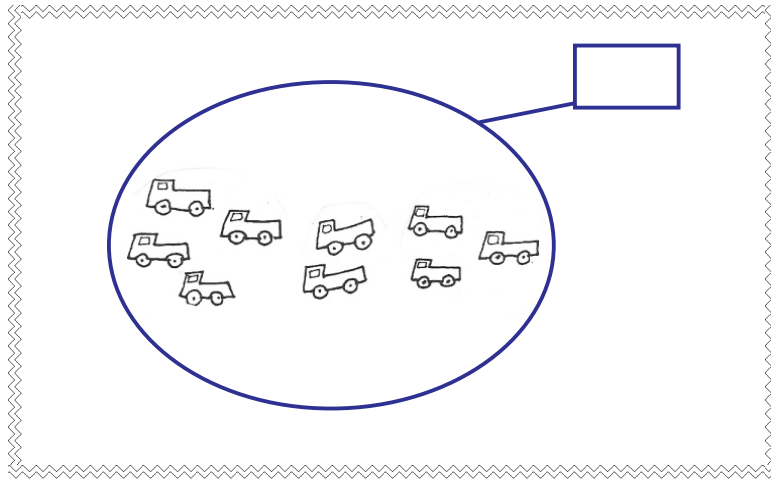


NO

LE MACCHININE DI ELIA.

PER IL COMPLEANNO ELIA HA RICEVUTO IN REGALO 9 MACCHININE.

SE 5 SONO DI COLORE ROSSO, QUANTE SONO LE MACCHININE NON ROSSE?

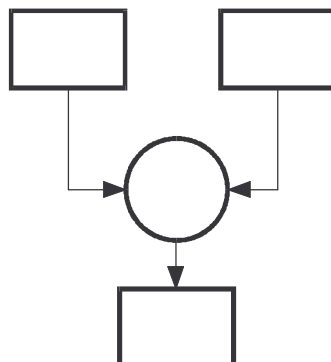


COLORA LE MACCHININE ROSSE, COMPLETA L'INSIEME E POI ESEGUI L'OPERAZIONE.

OPERAZIONE:



ADESSO COMPLETA IL DIAGRAMMA.



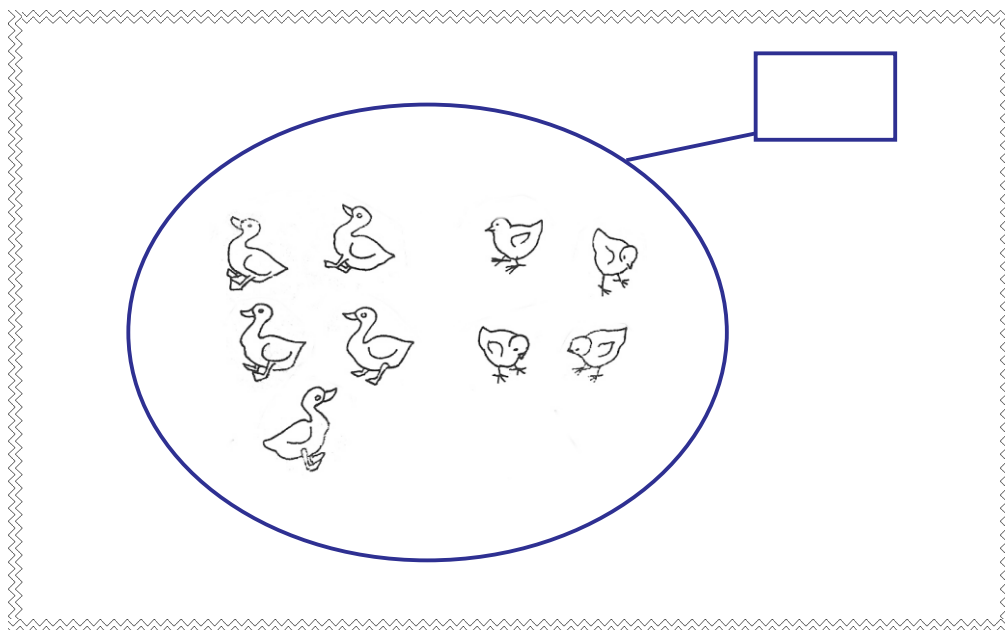


INDICA CON UNA CROCETTA COSA PENSI DEL TUO LAVORO.

- SONO SICURO DI AVER FATTO TUTTO GIUSTO.
- FORSE HO FATTO GIUSTO.
- FORSE HO SBAGLIATO.
- SONO SICURO DI AVER SBAGLIATO.

GLI ANATROCCOLI.

IN UN INSIEME CI SONO 9 ANIMALI.
DI QUESTI 5 SONO ANATROCCOLI.
QUANTI SONO I NON ANATROCCOLI?



COLORA GLI ANATROCCOLI E POI CIRCONDA DI ROSSO
I NON ANATROCCOLI.



ORA ESEGUI L'OPERAZIONE:

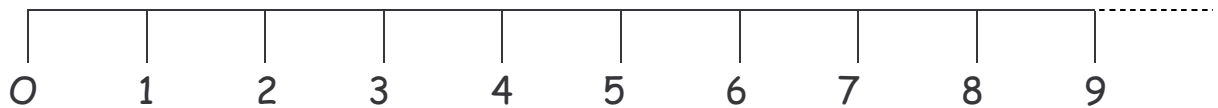
.....



COMPLETA IL MURETTO DEI REGOLI:



RISOLVI IL PROBLEMA SULLA LINEA DEI NUMERI:



SCRIVI INFINE LA RISPOSTA:



PENSI DI AVER SVOLTO BENE IL COMPITO?
SEGNA CON UNA CROCETTA LA RISPOSTA.



SÌ



NON SO



NO