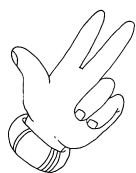


## SETTIMA UNITÀ DI ESERCITAZIONE.



Un tipografo distratto ha dimenticato i segni delle operazioni. Completa tu, aggiungendo al posto giusto i segni +, -, =

145	+	115	=	260		
175	.....	25	.....	100	.....	100
120	.....	40	.....	80		
76	.....	16	.....	40	.....	20
500	.....	150	.....	50	.....	400
60	.....	45	.....	15		
93	.....	13	.....	80		
74	.....	26	.....	100		



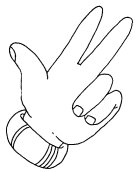
Prima scomponi ogni numero usando la tabella e poi scrivilo in cifre:

	k	h	da	u	In cifre
3 k, 1 h, 4 da, 2 u					
2 k, 1 h, 45 u					
41 h, 4 u					
7 k, 1 h, 2 da					
165 da, 1 u					
9 k, 11 da					
5 k, 1 h, 3 da, 5 u					
61 h, 9 da, 3 u					
8 k, 10 da, 7 u					

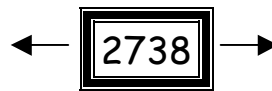





Completa:

- 1								
	10	100	150	500	701	999	1000	1001
+ 1								



Scrivi, per ognuno dei seguenti numeri, il precedente ed il successivo:



Controlla se i tuoi compagni hanno lavorato come te.  
Avevi indovinato?



Sì



No