


QUARTA UNITÀ DI ESERCITAZIONE.



Metti il segno giusto $>$, $<$, $=$.

$1626 \square 3042$

$2643 \square 3426$

$3029 \square 3092$

$6941 \square 9614$

$2109 \square 2901$

$3260 \square 3620$

$6254 \square 2654$

$2043 \square 4032$

$9004 \square 4009$

$7625 \square 6725$



Scrivi in cifre i numeri dati e poi scomponili come nell'esempio:

$\text{millecentoventiquattro} = 1124 = 1000 + 100 + 20 + 4$

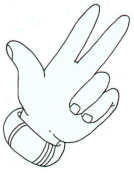
$\text{milleduecentocinquantacinque} = \quad =$

$\text{duemiladuecentosette} = \quad =$

$\text{tremiladuecentosessantasei} = \quad =$


$\text{millesettantotto} = \quad =$

$\text{duemilaquattrocentosessanta} = \quad =$



Riscrivi i numeri nei vagoni, in ordine crescente:

1617 - 1342 - 1324 - 1671 - 1530 - 1716



Come ti è sembrato risolvere questo compito?

- Ho avuto un po' di difficoltà.
- È stato semplice.
- Ci ho dovuto pensare molto.