

LA TENDA

La maestra Teresa, il 20 settembre, decide di comprare una tenda per la sua casa. Ottiene uno sconto di 36 euro. Paga subito 77 euro e il rimanente in 3 rate da 64 euro, 72 euro e 74 euro.
Qual è il prezzo di listino della tenda?



Completa lo schema inserendo i dati.

DATI UTILI	DATI INUTILI
.....
.....
.....
.....
.....

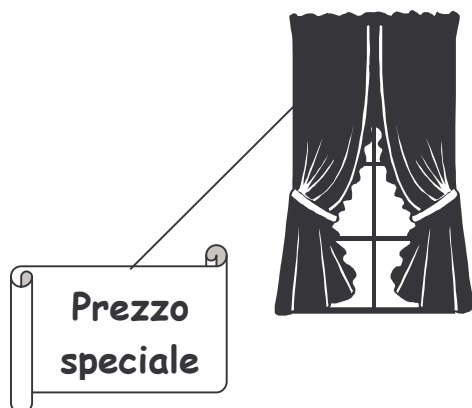
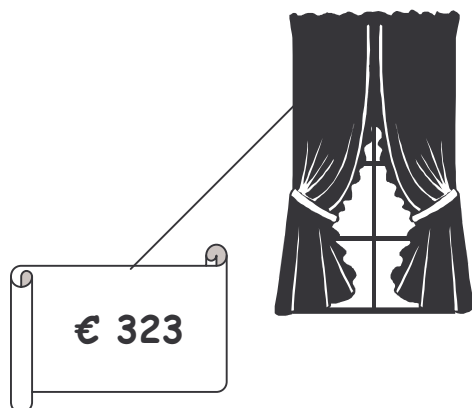
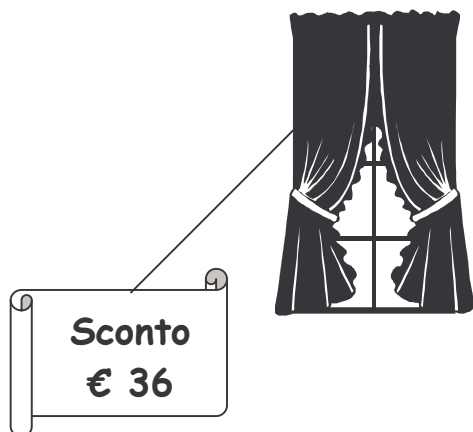


Scegli il calcolo giusto per risolvere esattamente il problema.

- $77 + 64 + 72 + 74 = 287$
- $77 + 64 + 72 + 74 + 36 = 323$
- $77 + 20 + 3 + 64 + 72 + 74 + 36 = 346$



Scegli la rappresentazione giusta.





Risolvi il problema con l'operazione.



Controlla se i tuoi compagni hanno lavorato come te e parlane con loro.