

AL DISTRIBUTORE.

Dal benzinai Amedeo con 90 punti FEDELTA' puoi ricevere un simpatico orologio da parete, con 270 punti un bellissimo zaino da montagna e con 500 punti un caldo plaid. La mamma di Carlotta ha già raccolto 196 punti. Per avere lo zaino, quanti punti dovrà raccogliere ancora?




Scegli le informazioni utili per risolvere il problema:

- Per avere lo zaino, che vale 270 punti, la mamma di Carlotta ne ha già raccolti 196.
- Lo zaino vale 270 punti.
- Lo zaino serve per andare in montagna.
- Il gestore del distributore si chiama Luigi.



Scegli il disegno che rappresenta esattamente la soluzione del problema:




- Lo zaino da montagna.


DA AMEDEO	
1 PUNTO	1 PUNTO
1 PUNTO	1 PUNTO
197	198
199	200
201	202
203	204
205	206
207	208
209	210
211	212
213	214

TESSERA PUNTI


- La tessera contenente 270 punti con i 196 punti della mamma di Carlotta già incollati.



- Amedeo il benzinaio.



- L'orologio da parete.



Quali di questi problemi risolveresti con la stessa operazione?

- Il benzinaio Amedeo ha venduto 150 litri di benzina e 75 litri di gasolio. Quanti litri in tutto?
- La mamma di Carlotta va a trovare nonna Carmela. La distanza fra la casa della nonna e la sua è di 35 chilometri e la signora ha già percorso 17 chilometri. Quanti ne dovrà ancora percorrere per arrivare?
- Carlotta, mentre con la mamma va dalla nonna, conta tutte le auto rosse e quelle nere che incrocia: ne ha contate 25 nere e 32 rosse. Quante auto in tutto?
- Il benzinaio Amedeo ha gonfiato le ruote a 12 automobili. Quante ruote in tutto ha gonfiato?



Indica con una crocetta cosa pensi del tuo lavoro:

- Sono sicuro di aver fatto giusto.
- Forse ho fatto giusto.
- Forse ho sbagliato.
- Sono sicuro di aver sbagliato.