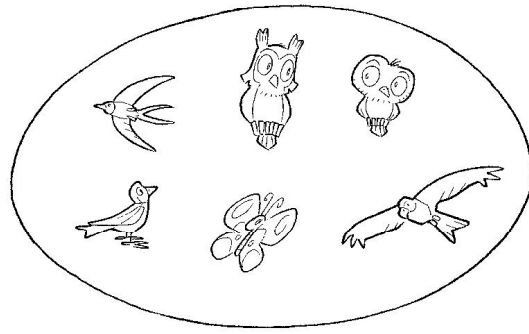



Questo è un insieme di uccelli. Qual è l'elemento intruso?



- A. Il falco
- B. La civetta
- C. La farfalla


Qual è il significato delle frecce?



- A. È fratello di...
- B. È figlio di...
- C. È genitore di...

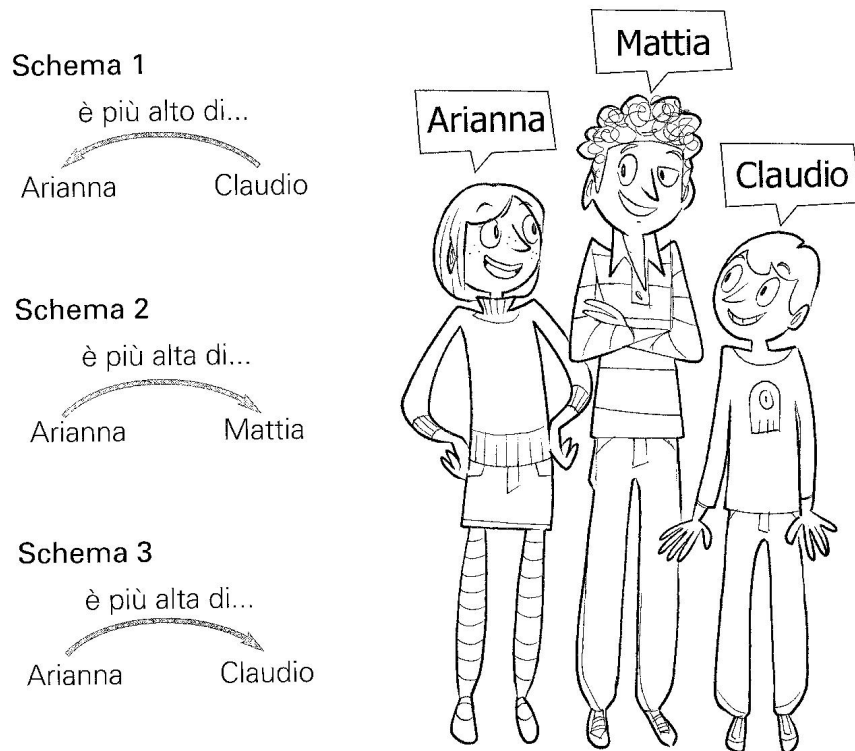
Questo è un insieme di gnomi con il cappello.

Chi può far parte dell'insieme?




- A. Tino e Pino
- B. Tino e Gino
- C. Pino e Gino

In quale di questi schemi la relazione indicata dalle frecce è corretta?



- A. Schema 1
 B. Schema 2
 C. Schema 3

Osserva le case



La casa di GIULIA:

- ha il tetto a punta;
- ha due piani;
- ha tre finestre per ogni piano.


Qual è la casa di Giulia?

- A. casa 1
 B. casa 2
 C. casa 3

Quale elemento non appartiene all'insieme indicato?

STOVIGLIE


- A. forchetta
- B. cacciavite
- C. tazza



Quale elemento appartiene all'insieme indicato?

UCCELLI


- A. capretta
- B. gatto
- C. rondine



Cosa scriveresti nel cartellino dell'insieme?

.....

- A. verdura
- B. frutti
- C. dolci



Cosa dice la freccia?

- A. non mangia
- B. mangia
- C. è mangiato da

