

ALLA FATTORIA.

Alla fattoria "Balla coi mussi" si mettono a covare in una cesta colma di paglia delle uova. Nascono 15 anatroccoli, 56 pulcini neri e 39 pulcini gialli.
Quanti pulcini complessivamente?




Scegli le informazioni utili per risolvere il problema:


- Alla fattoria sono nati 56 pulcini neri.
- Alla fattoria sono nati i pulcini in un cesto colmo di paglia.
- Alla fattoria sono nati 56 pulcini neri e 39 pulcini gialli.
- Alla fattoria sono nati 39 coniglietti.



Scegli il disegno che rappresenta esattamente la soluzione del problema:




- Le uova in una cesta colma di paglia.
-





I 56 pulcini neri.


□



□ I 39 coniglietti.



□ I 56 pulcini neri e i 39 pulcini gialli.



Quali di questi problemi risolveresti con la stessa operazione?

- Alla fattoria sono nati 56 pulcini neri e 39 pulcini gialli. Quanti pulcini neri in più?
- Alla fattoria sono state messe a covare 56 uova, ma 39 non si sono schiuse. Quanti pulcini sono nati?
- Alla fattoria ci sono 56 galline e 39 coniglietti. Quanti animali in tutto?
- Alla fattoria mettono 56 pulcini in 4 scatole. Quanti pulcini in ogni scatola?



Indica con una crocetta cosa pensi del tuo lavoro:

- Sono sicuro di aver fatto giusto.
- Forse ho fatto giusto.
- Forse ho sbagliato.
- Sono sicuro di aver sbagliato.